

30. 04. 2020

Dzień dobry!

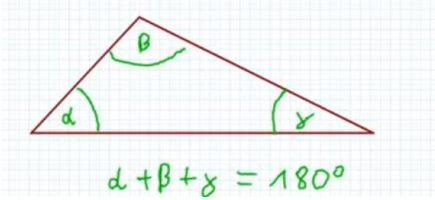
Na dzisiejszych zajęciach będziemy kontynuować poznawanie własności trójkątów. Dzisiaj zajmiemy się kątami.

Zapiszcie temat: **Miary kątów w trójkątach**


[https://www.youtube.com/watch?v=-4V9\\_5aqHw](https://www.youtube.com/watch?v=-4V9_5aqHw)

Po obejrzeniu filmu przeczytaj i przeanalizuj jeszcze str. 123 z podręcznika.

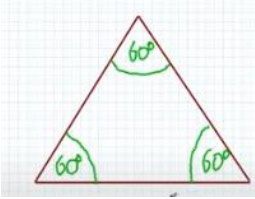
Następnie sporządź w zeszyte notatkę tej treści:



Suma miar kątów w każdym trójkącie wynosi  $180^\circ$



W trójkącie równoramiennym kąty przy podstawie mają tyle samo stopni



W trójkącie równobocznym wszystkie kąty mają  $60^\circ$

Te trzy zasady są bardzo ważne i musisz je zapamiętać, gdyż będziesz z nich korzystać w dalszym ciągu zajęć z matematyki.

Przejdziemy teraz do rozwiązywania zadań. Rozwiąż z podręcznika zad. 1 str. 123 oraz 2 i 3 str. 124.

Następnie przejdź do zeszytu ćwiczeń i wykonaj ćwicz. 1, 2 oraz 3 ze strony 57. Zdjęcie lub skan strony 57 (tylko tej strony) proszę przesłać na adres [ireschu80@eszkola.opolskie.pl](mailto:ireschu80@eszkola.opolskie.pl) do niedzieli, **3 . 05. 2020 do godz. 18.00**. Zaplanuj jednak pracę tak, abyś mógł odpocząć w weekend.

W razie pytań i niejasności możesz napisać do mnie poprzez e dziennik lub na Teamsie.

Irena Schudy