

PONIŻSZE ZADANIA NALEŻY WYKONAĆ DO PONIEDZIAŁKU 30 MARCA 2020
WŁĄCZNIE

Dzień dobry.

Dzisiaj będziemy kontynuować temat Ułamek jako część całości.

Przypomnijcie sobie jak zbudowany jest ułamek.

Dokończ zdania (nie zapisuj ich, tylko powiedz):

Kreska między liczbami nazywa się.....

Liczba nad kreską to.....

Liczba pod kreską to.....

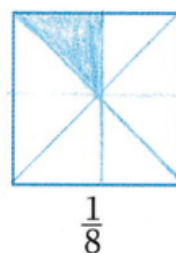
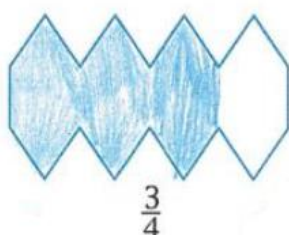
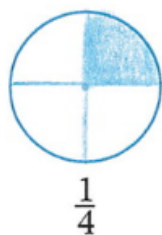


Ten ułamek to pięć ósmych.

Przechodzimy do ćwiczenia 7. Przeczytaj polecenie i popatrz na rysunki. Czego tu brakuje? (Pomyśl)

Pewnie zauważyłeś/aś, że figury na rysunkach nie są podzielone na części. Musimy zrobić to sami.

Pamiętaj, że części muszą być równe, wobec tego **należy pomóc sobie linijką** i zmierzyć niektóre odcinki. Aby ułatwić Wam wykonanie tego ćwiczenia, poniżej zamieszczam przykłady.



Proszę zrobić teraz to ćwiczenie (widziałam w przesłanych pracach, że niektóre osoby już je zrobiły, ale często niestarannie, zaznaczając części figur „na oko” – proszę, aby teraz to poprawiły).

Zadanie domowe – Matlandia

Osoby nie posiadające dostępu do Matlandii w zeszycie rozwiązać zad. 1 i 2 str.153 (wysłać skan lub zdjęcie) oraz proszę o skany lub fotografie ćwiczenia 7 str.57 kazgrze28@eszkola.opolskie.pl