

PONIŻSZE ZADANIA NALEŻY WYKONAĆ DO ŚRODY 6 MAJA 2020 WŁĄCZNIE  
DO GODZINY 21:00

Dzień dobry.

Dzisiejszy temat lekcji to:

**Temat: Ułamki właściwe i niewłaściwe.**

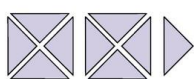
**Dopiszcie datę do poprzedniego tematu.**

Przypomnijmy z ostatniej lekcji co to jest ułamek właściwy, niewłaściwy, a co to liczba mieszana.

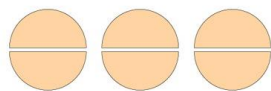
Przeanalizuj ćwiczenie C i D ze str. 167.

Zapisz poniższe przykłady w zeszytcie.

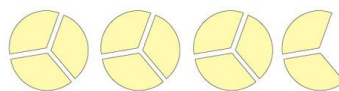
Przyjrzyj się poniższym rysunkom. Każdy z nich został opisany na dwa sposoby — za pomocą ułamka niewłaściwego i liczby mieszanej (lub liczby naturalnej).



$$\frac{9}{4} = 2\frac{1}{4}$$



$$\frac{6}{2} = 3$$



$$\frac{11}{3} = 3\frac{2}{3}$$

Następnie wykonaj ćwiczenie 8 str. 67

Przyjrzyj się ćwiczeniu F str. 168 oraz rysunkowi poniżej i wykonaj ćw. 9 str. 67

**Zadanie domowe**

1. Ćwiczenia 6 i 7 oraz dokończyć 8 i 9 str. 67 oraz Matlandia
2. OSOBY NIE MAJĄCE DOSTĘPU DO MATLANDII Ćwiczenia 6 i 7 oraz dokończyć 8 i 9 str. 67 i zad. 3, 4, 5 str.169

Skany lub zdjęcia wykonanych ćwiczeń i zadań proszę przesłać na adres

[kazgrze28@eszkola.opolskie.pl](mailto:kazgrze28@eszkola.opolskie.pl) do 6 maja 2020, do godz. 21:00